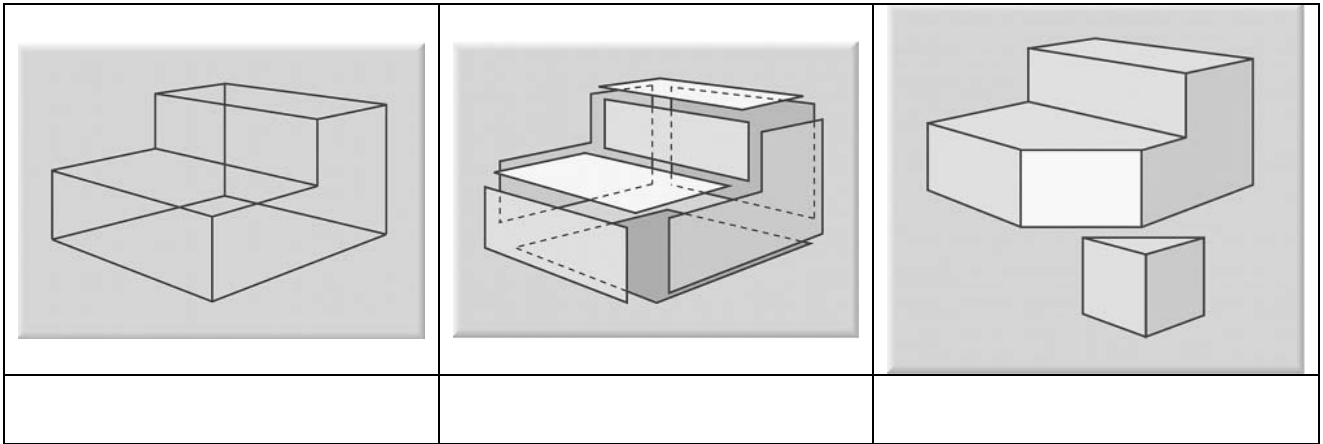


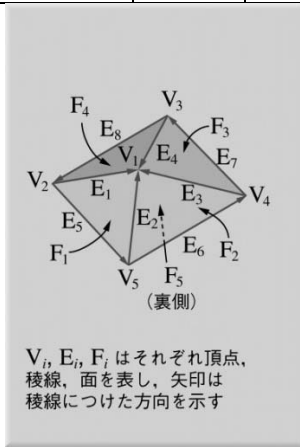
学年	学科	学籍番号	氏名

問1. 立体モデルの名称を記せ。



問2. 立体モデルの特徴を記した下表を完成せよ。

立体モデル	頂点	稜線	面	隠線 消去	隠面 消去	陰影 表示	体積 計算	物体間の 集合演算	物体同士の 干渉計算



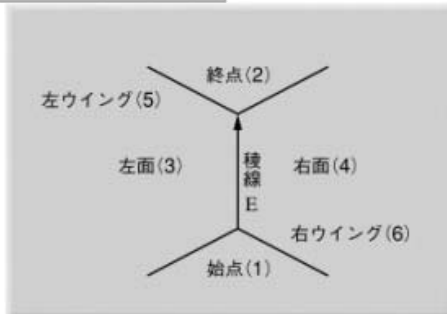
■ 図3.11——最も簡単な境界表現のデータ構造(図3.5 [a] を表現した例)

頂点	座標値			面	頂点				
V_1	x_1	y_1	z_1	F_1	V_1	V_2	V_5		
V_2	x_2	y_2	z_2	F_2	V_1	V_5	V_4		
V_3	x_3	y_3	z_3	F_3	V_1	V_4	V_3		
V_4	x_4	y_4	z_4	F_4	V_1	V_3	V_2		
V_5	x_5	y_5	z_5	F_5	V_2	V_3	V_4	V_5	

[a] 頂点データ

[b] 面データ

「コンピュータグラフィックス」2004年 / 財団法人画像情報教育振興協会 (CG-ARTS協会)



[a] 稜線Eを中心に見た頂点・面・稜線の接続関係

	頂点	面	稜線			
	(1)	(2)	(3)	(4)	(5)	(6)
E_1	V_2	V_1	F_4	F_1	E_4	E_5
E_2	V_5	V_1	F_1	F_2	E_1	E_6
E_3	V_4	V_1	F_2	F_3	E_2	E_7
E_4	V_3	V_1	F_3	F_4	E_3	E_8
E_5	V_2	V_5	F_1	F_5	E_2	E_8
E_6	V_5	V_4	F_2	F_5	E_3	E_5
E_7	V_4	V_3	F_3	F_5	E_4	E_6
E_8	V_3	V_2	F_4	F_5	E_1	E_7

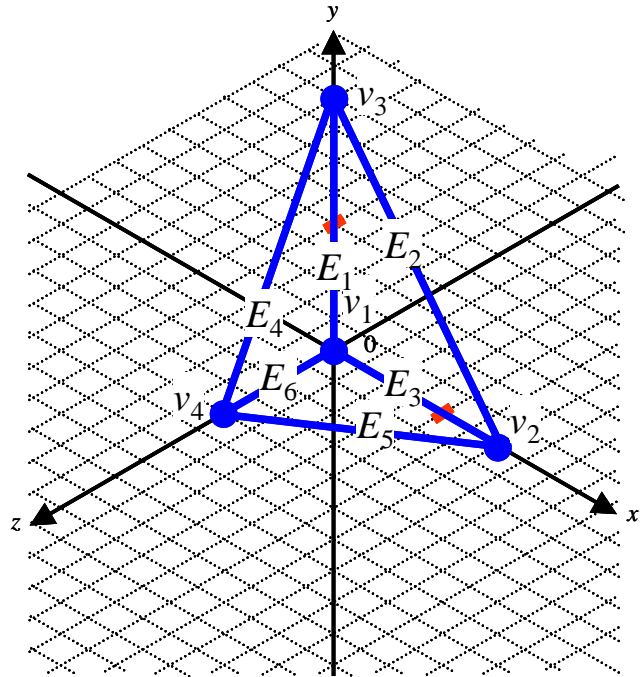
[c] 稜線データ

境界表現の例

問3. 右図のような三角錐が与えられたとき、この三角錐の頂点リストと稜線リストを完成させよ。ただし、立体は4柁で1として描かれているものとする。

頂点	x	y	z
v_1	0	0	0
v_2	1.5	0	0
v_3	0	2	0
v_4	0	0	1

面	頂点		
F_1	v_1	v_2	v_4
F_2	v_1	v_3	v_2
F_3	v_1	v_4	v_3
F_4	v_2	v_3	v_4



問4. 上右図のような三角錐が与えられたとき、このとき、次表に示すこの立体の Winged Edge 構造を完成せよ。

稜線	始点	終点	面(左)	面(右)	稜線(左ウイング)	稜線(右ウイング)
E_1	v_1	v_3				
E_2	v_3	v_2				
E_3	v_1	v_2				
E_4	v_3	v_4				
E_5	v_2	v_4				
E_6	v_4	v_1				

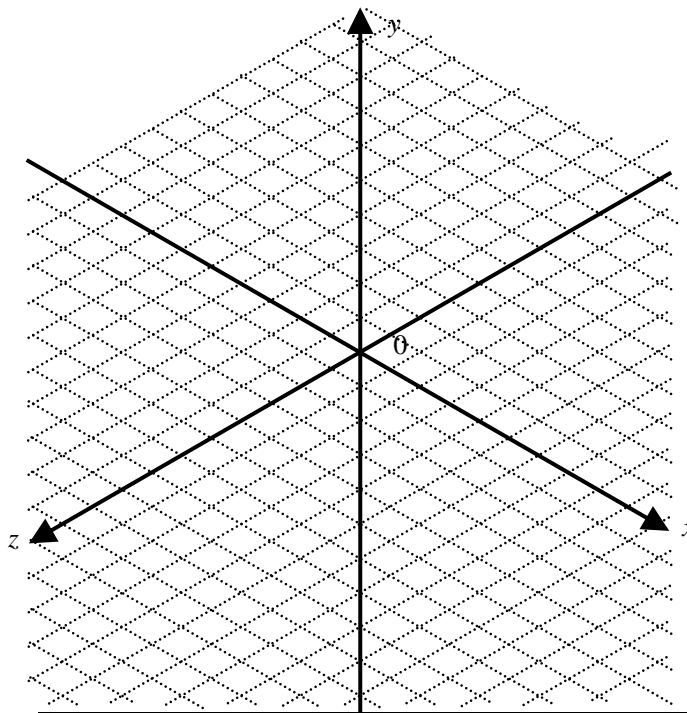
学年	学科	学籍番号	氏名

次の頂点リスト, 稜線リスト, 面リストで定義される立体(三角錐)がある。

頂点	x 成分	y 成分	z 成分
v_1	0	0	0
v_2	3	0	0
v_3	0	4	0
v_4	0	0	2

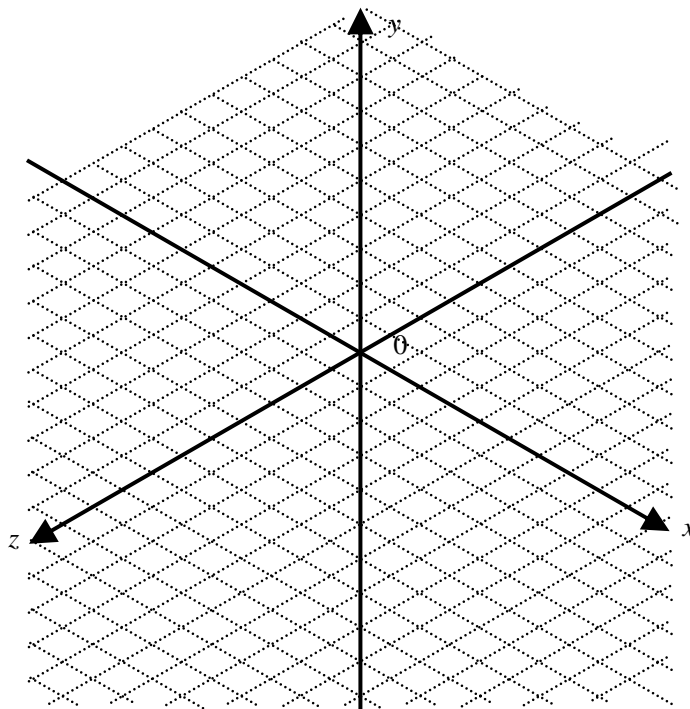
稜線	始点	終点
E_1	v_1	v_3
E_2	v_3	v_2
E_3	v_2	v_1
E_4	v_3	v_4
E_5	v_4	v_2
E_6	v_1	v_4

問1 上記の三角錐をベクトル $T=(4, 3, 5)$ で定まる平行移動を行ったとき, 三角錐の各頂点の座標を求めよ。また, 平行移動後の三角錐を描け。



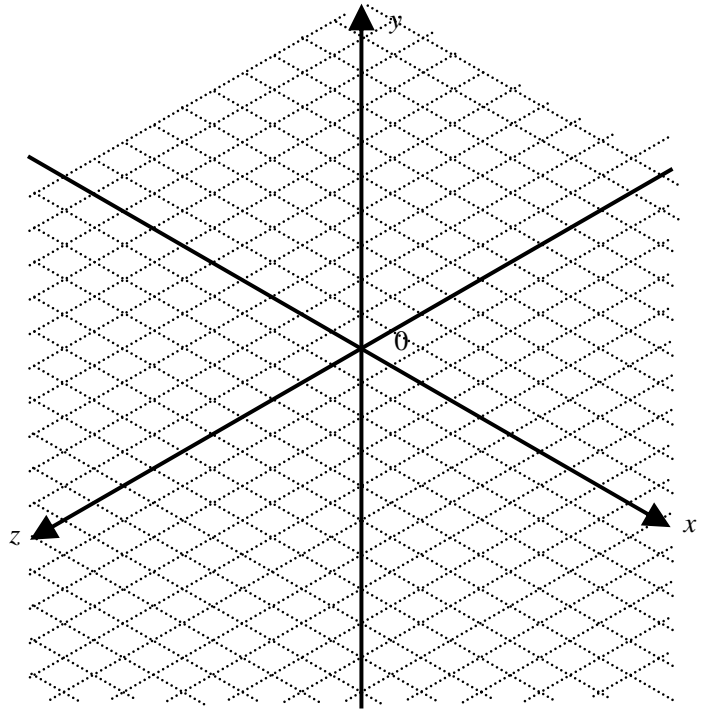
頂点	x 成分	y 成分	z 成分
v_1'			
v_2'			
v_3'			
v_4'			

問2 問1で平行移動した三角錐を x 軸, y 軸, z 軸方向にそれぞれ 1.5 倍, 1.0 倍, 0.5 倍拡大・縮小したとき, 三角錐の各頂点の座標を求めよ。また, 拡大・縮小後の三角錐を描け。



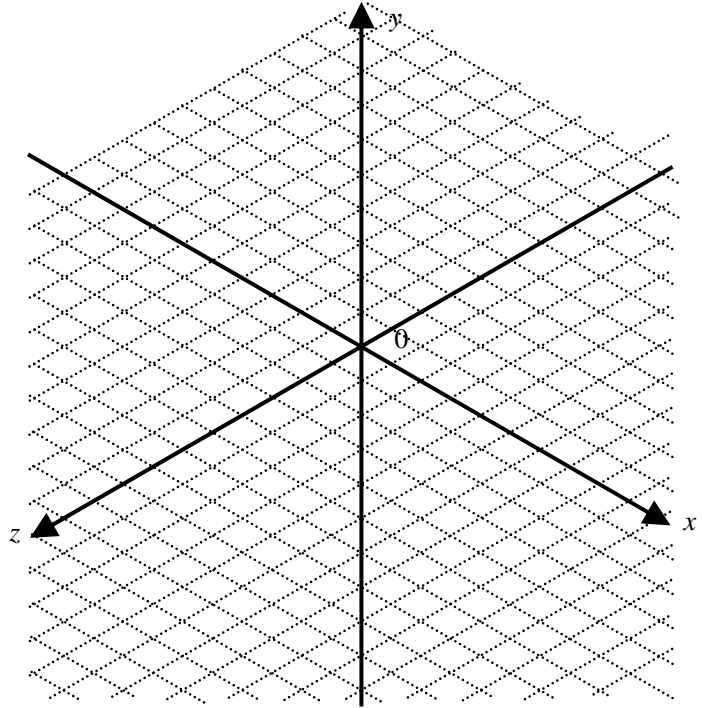
頂点	x 成分	y 成分	z 成分
v_1'			
v_2'			
v_3'			
v_4'			

問3 元の三角錐を x 軸, y 軸, z 軸方向にそれぞれ 1.5 倍, 1.0 倍, 0.5 倍拡大・縮小したとき, 三角錐の各頂点の座標を求めよ。また, 拡大・縮小後の三角錐を描け。



頂点	x 成分	y 成分	z 成分
v_1'			
v_2'			
v_3'			
v_4'			

問4 問3で拡大・縮小した三角錐を、ベクトル $T = (4, 3, 5)$ で定まる平行移動を行ったとき、三角錐の各頂点の座標を求めよ。また、平行移動後の三角錐を描け。



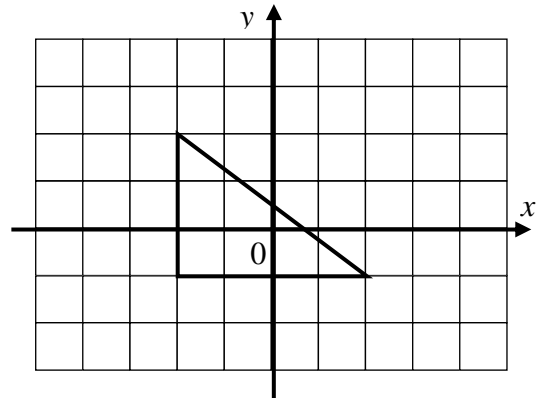
頂点	x 成分	y 成分	z 成分
v_1'			
v_2'			
v_3'			
v_4'			

問5 問1⇒問2と連続して行った座標変換結果と、問3⇒問4と連続して行った座標変換結果を比較せよ。元の三角錐に対して、問1に続けて問2、問3に続けて問4の座標変換を行った結果を比べよ。つまり、
 (a) 元の三角錐⇒問1 平行移動⇒問2 拡大・縮小
 (b) 元の三角錐⇒問3 拡大・縮小⇒問4 平行移動
 という座標変換を行っているが、(a)と(b)の座標変換結果は同じか。異なっている場合、その理由を考えよ。

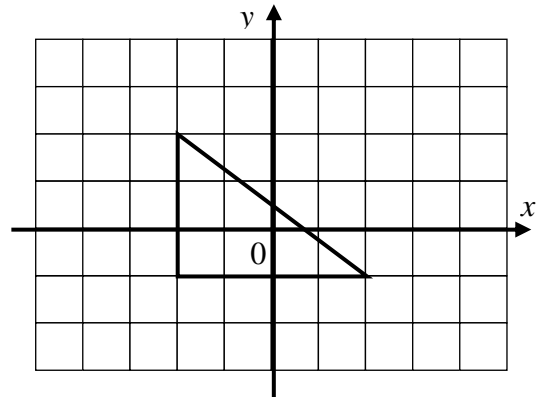
学年	学科	学籍番号	氏名

鏡映

(1) 3つの頂点の座標が $(-2, -1)$, $(-2, 2)$, $(2, -1)$ である三角形がある. この三角形の, y 軸に関する鏡映を求めよ.

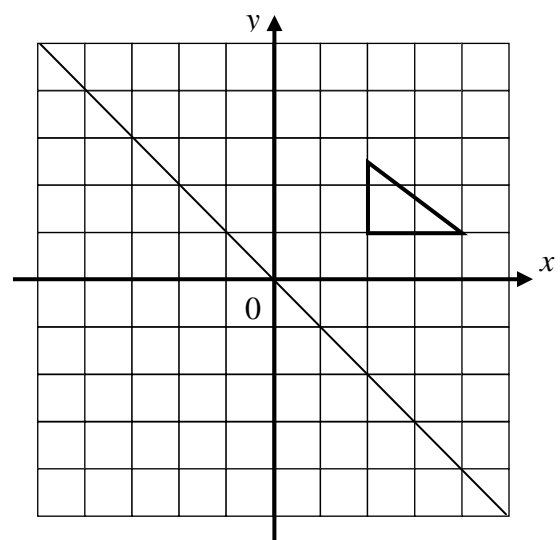


(2) 問(1)の元の三角形の, 直線 $y=x$ に関する鏡映を求めよ.



(3) 下左図に示す三角形を, まず x 軸に関して鏡映させて, 次に直線 $y=-x$ に関して鏡映させたとき, 最終的な三角形の位置を求めよ.

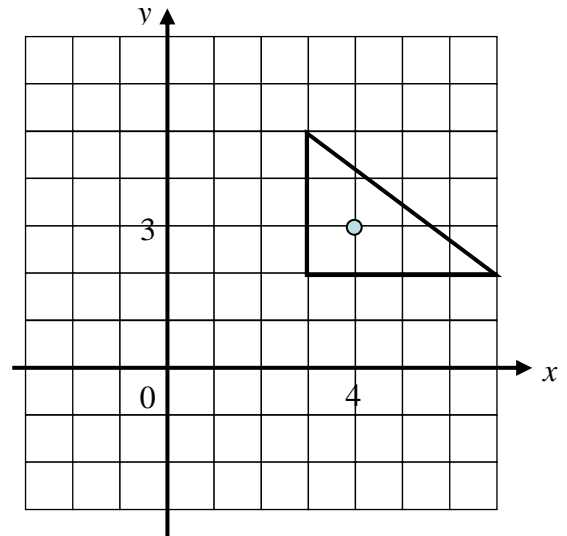
(4) また, その位置が, 三角形を原点の回りに反時計回りに 270° 回転させたものと同じであることを, 回転行列を求めて示せ.



原点を通る2つの軸に対して, 続けて鏡映をほどこすと, その結果は原点回りの回転を1回だけほどこした結果と同じになる.

任意の点の回りの回転

3つの頂点の座標が(3, 2), (3, 5), (7, 2)である三角形がある. この三角形を, 点(4, 3)を中心にして反時計回りに 90° 回転したときの三角形の頂点の座標を求めよ.



任意の直線に対する鏡映

3つの頂点の座標が(2, 4), (4, 6), (2, 6)である三角形がある. この三角形と, 直線

$$y = \frac{1}{2}(x + 4)$$

に関して鏡映な三角形の頂点の座標を求めよ.

